

CHAPITRE 1 : NOMBRE ENTIER

SF1 : RECONNAÎTRE LE RANG DES CHIFFRES DANS UN NOMBRE



1



Recopier et compléter.

153 centaines et 2 dizaines = ... dizaines
 3 centaines de milliers et 7 centaines = ... unités
 34 milliers et 10 dizaines = ... centaines

2



Relier les nombres égaux

4 000 milliers	40 000 000
40 milliers de milliers	400 000
4 000 centaines	40 000
400 centaines	4 000 000

3



Ecrire en chiffres les nombres suivants :

1. Neuf-mille-cinquante-trois
2. Deux-cent-seize-milliards-trois-cent-six-millions-trente-trois-mille-quatre-cents
3. Six-millions-deux-cent-quarante-mille-quatre-cent-un
4. Sept-cent-mille-trois-cent-six
5. Quatre-vingt-huit-mille-vingt-huit

4



Ecrire en toutes lettres les nombres suivants :

1. 503 210
2. 784 213
3. 3 728 303 080
4. 27 942 608

5



Noléa a une recherche à faire sur le soleil.
 Voici ce qu'elle a trouvé :

Le Soleil est une étoile d'un million-cent-quatre-vingt-douze-mille kilomètres de diamètre, située à cent-quarante-neuf-millions-six-cent-mille kilomètres de la Terre. Son âge est d'environ cinq-milliards d'années. Sa température est, en surface, de six-mille degrés Celsius. La pression en son centre est égale à trois-cent-quarante-milliards de fois la pression terrestre au niveau de la mer.

Recopier ce texte en écrivant les nombres cités en chiffre.

6



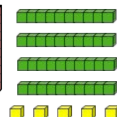
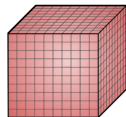

Indiquer dans le tableau le nombre de visites en chiffres.

Musée	Nombre de visites en lettres	Nombres de visites en chiffres
Musée du Louvre	Sept-millions-trente-huit-mille-quatre-cent-quatre	
Musée des monnaies		130 000
Musée d'Orsay	Deux-millions-neuf-cent-quatre-vingt-dix-sept-mille-six-cent-vingt-cinq	
Musée du quai Branly	Neuf-cent-dix-mille-huit-cent-quarante-cinq	
Musée d'art moderne		3 428 688
Musée du débarquement		279 800

7



Dans le nombre



.....

- Le chiffre des unités est
- Le nombre des dizaines est
- Le chiffre des dizaines est
- Quel est le chiffre des centaines ?
- Quel est le nombre de centaines ?
- Quel est le chiffre des milliers ?

8



Recopier et compléter les phrases suivantes :

Dans le nombre 9 524 317 :

1. 4 est ...
2. Le nombre de centaines de mille est ...
3. 524 est ...
4. 952 431 est ...

11



Corriger la copie d'Arthur en expliquant ses erreurs

1. 81 millions et 12 unités = 81 000 000 12. **FAUX !**
2. Le nombre de centaines de 234 597 est 5. **FAUX !**
3. 200 083 s'écrit deux-cents-mille-quatre-vingts-trois **FAUX !**

9



Je suis un nombre pair composé de trois chiffres. Mon chiffre des dizaines est égal à la moitié de mon chiffre des centaines, qui est lui-même le quadruple de mon chiffre des unités.

Qui suis-je ?

10



Je suis un nombre entier de 12 chiffres.

- Mon nombre de centaines de millions correspond à l'année de la révolution française.
- Mon chiffre des unités est 3.
- Mon chiffre des centaines de milliers est le double de mon chiffre des unités.
- J'ai 6 zéros

Qui suis-je ? (Ecrire en chiffre puis en lettre)